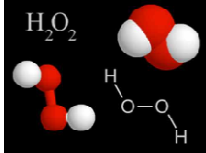
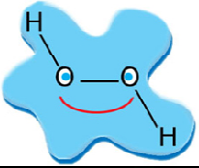


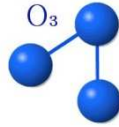
1) Scegli la giusta formula chimica dell' acqua

2 punti

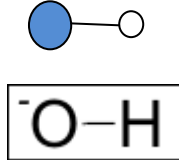
H_2O_2 O_3 OH H_2O H_3O^+ HO_2H_2



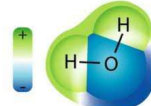
ACQUA OSSIGENATA



OZONO



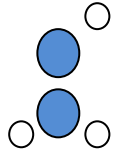
OSSIDRILE



ACQUA




IONE IDRONIO



INESISTENTE

2) unisci con frecce le parole al disegno nei punti giusti

7 punti



MARE BARCA COLLINA SOLE RAGGI ALGA ISOLA

3) L' acqua è incolore , inodore, insapore, perché invece nel mare è

AZZURRA perché RIFLETTE IL CIELO perché CI SONO LE ALGHE AZZURRE

SALATA perché IL PESCE E' SALATO perché I FIUMI CI PORTANO I SALI

ODOROSA perché CI SI BAGNANO PERSONE PROFUMATE perché E' PIENA DI PESCI E ALGHE

6 punti

4) Descrivi tutto quello che sai sul MAR MORTO

in che posto del mondo si trova?.....

è un lago o un mare?

Qual è la sua caratteristica principale?

.....

cosa fa quel bagnante in fotografia?



Da 1 a 5 punti

5) L' IDROSFERA E' COMPOSTA DALLA SFERA DELLE ACQUE CONTINENTALI E DELLE ACQUE OCEANICHE

Unisci con frecce

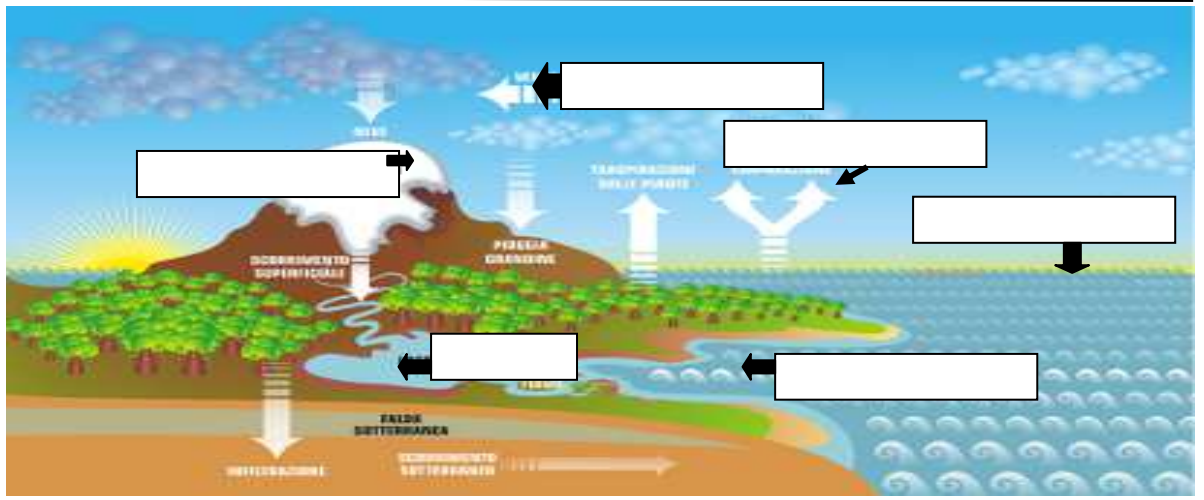
Fiumi, laghi, pozzi, sorgenti

mari, oceani

2 punti

6) Scrivi nei riquadri le parole giuste che ho cancellato

Fino a 6 punti



7)



Piscina

densità 1,1



mare freddo

densità 1,2



mare caldo

densità 1,3



mare sporco

densità variabile

dove galleggia meglio questo bagnante ?



2 punti

8) cos' è che permette all' acqua di mare di trattenere bene il calore assorbito dal sole?

Il colore specifico il calore specifico il chiarore specifico nessuno dei tre

2 punti

9) come si chiama il ciclo riprodotto in questo disegno ?

2 punti

Tot: 32 punti

