

Verifica di scienze sul **terreno** (ultima delle tre verifiche su aria acqua e appunto terreno)

Classe Alunno/a17 0 19 gennaio 2013

Idrosfera atmosfera litosfera biosfera

riscrivi nel rettangolo sotto la figura a che sfera appartiene l' oggetto rappresentato

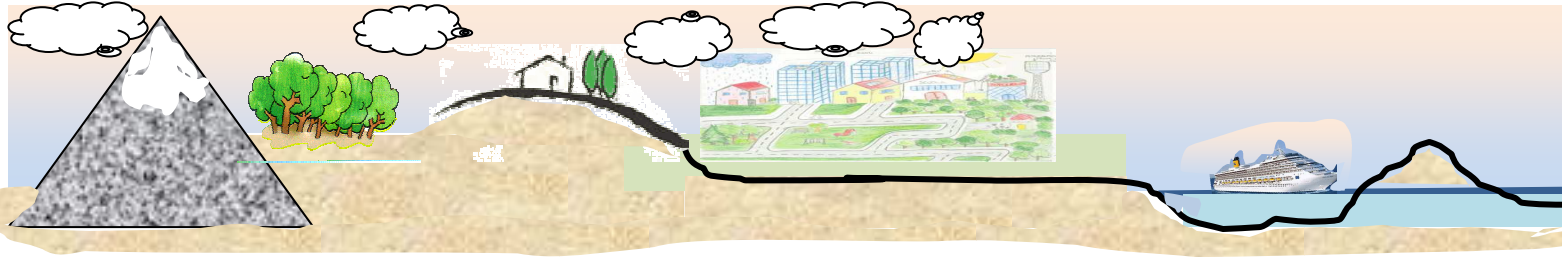








4 punti



Indica con una crocetta i posti dove si possono fare coltivazioni

4 punti

E' un buon terreno agrario questo qui ?

Sì No perché?



E' un buon terreno agrario questo qui ?

Sì No perché?

4 punti

Mettici tu le percentuali in questo terreno agrario.

Acqua %

sabbia %

Aria %

argilla %

Terreno %

calcare %

Sassi %

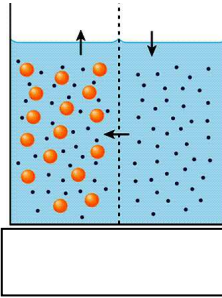
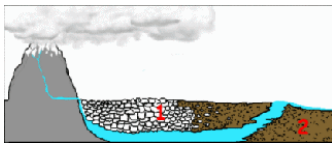
Humus %

100%

100%

8 punti

Torbidità osmosi risorgiva cereale ..parole difficili ma se ti metto una foto
 puoi riscriverle nei giusti rettangoli



quattro punti

se poi spieghi le
 parole sono altri
 quattro punti

<http://www.valorealimentare.it/04/12/2009/rubriche/alimenti-e-salute/i-cereali-a-ciascuno-le-sue-virtu/> : per saperne di più sui cereali

cosa c'è nell' ORIZZONTE A di un terreno, nell' ORIZZONTE B e nell' ORIZZONTE C ?

ORIZZONTE A

ORIZZONTE B

ORIZZONTE C

6 punti




Figura 1 - Composizione del terreno.
 (Gli intervalli granulometrici sono in mm)

Modello a cui ispirarsi

cinque punti

Abbina alle parole le giuste professioni scrivendole nei rettangoli

ORTO	CAMPO	PESCHE PERE MELE POMODORI ...	STUDIO DEL TERRENO AGRARIO
------	-------	-------------------------------	----------------------------

Professione ? (AGRONOMO – ORTOLANO – CONTADINO – FRUTTIVENDOLO)

--	--	--	--

fine

8 punti

Hai notato che le sette righe di separazione delle domande sono colorate: elenca in ordine dalla prima alla settima che colori ci sono e a cosa si riferiscono.

Altri 3 punti

.....

.....

tot. 50